

مجمع

امتحان علي النظام الجديد اعداد

الصف الثاني الاعدادي د/اسلام شاكر

الحل علي قناة يلا نفهم islam shaker

جميع المواد ٢٠٢٠ / ٢٠٢١

س١) السؤال الاول : لغة عربية

من نص (ذكريات اكتوبر) " ان يوم السادس من اكتوبر ثعرة تصميم شعب وإصراره علي الحياة الكريمة ، وتضحيه جنود بوسائل قدموا ارواحهم بغير حساب فداء للوطن " .

- معني تصميم
- مضاد بوسائل و ما الجمال في قوله " قدموا ارواحهم " .
- احب أخوك نفسه اكثر من غيره . " نفس " تعرب
- اختر : كن مجتهدا (لا - بل - لكن) كسولا

السؤال الثاني العلوم

- ١) العالم الذي اكتشف مستويات الطاقة الرئيسية بالذرة هو
- ٢) اول جدول دوري حقيقي لتصنيف العناصر هو جدول
- ٣) الأشعة فوق البنفسجية ذات أثر بينما الأشعة تحت الحمراء ذات أثر
- ٤) كلما ارتفعنا لاعلي فوق سطح البحر يقل كل من و
- ٥) التناقص المستمر في اعداد افراد نوع من الكائنات الحية حتي موت كل افراد هذا النوع يسمى

السؤال الثالث الرياضيات

- ١) المعكوس الجمعي للعدد الحقيقي ١ - $\sqrt{5}$ هو
- ٢) $\sqrt{16} - \sqrt{128} + \sqrt{54} = \dots\dots\dots$
- ٣) $|-863| - |-863| = \dots\dots\dots$
- ٤) Δ ب ج فيه $6 = ب = 6$ سم $6 = ج = 9$ سم فإن \angle (ب) و \angle (ج)
- ٥) المثلث س ص ع متساوي الساقين فيه \angle (س) = 100° فإن \angle (ص) =

السؤال الرابع الدراسات

- ١) يفضل سكان دولتي و سكني المرتفعات لاعتدال المناخ
- ٢) ينتج عن سوء توزيع السكان بالوطن العربي حدوث
- ٣) عرفت معركة نهاوند باسم
- ٤) انتصر علي الفرس في معركة القادسية (خالد بن الوليد - سعد بن ابي وقاص - مصعب بن عمير)
- ٥) تقع دولة خارج النطاق الفلكي للوطن العربي (مصر - تونس - جزر القمر)

السؤال الخامس لغة اجنبية

Choose the correct answer

- 1-My favourite are maths and English. (sports - hobbies - subjects)
- 2-She's a/an Her painting is very lovely. (engineer - artist - singer)
- 3-This book is.....You should read it. (boring - fantastic - terrible - bad)
- 4-Thepumps blood around the body. (brain - lung - eye - heart)
- 5-A lot of muslims go to.....to pray. (markets - entrances - mosques)

وبالتوفيق ان شاء الله (عشان تتابعنا دائما شرح ومراجعات ابتدائي واعدادي اكتب علي اليوتيوب يلا نفهم اسلام شاكر و هتلاقى حل الامتحان كمان)

امتحان الفصل الدراسي الأول

التاريخ : ٢٠٢١ / ٣ / ٤

مجموع الدرجات

السؤال	الدرجة	توقيع	
		المقتر	المراجع
عربي ١			
عربي ٢			
المجموع			
انجليزي ١			
انجليزي ٢			
المجموع			
دراسات ١			
دراسات ٢			
المجموع			
رياضيات ١			
رياضيات ٢			
المجموع			
علوم ١			
علوم ٢			
المجموع			

رقم المراقبة

--



ممنوع اختلاط

مديرية التربية والتعليم با

إدارة

مدرسة

امتحان الفصل الدراسي الأول

لـلصف الثاني الاعدادي

التاريخ : ٢٠٢١ / ٣ / ٤

رقم المراقبة

--

اسم الطالب (رباعيا) : _____

المدرسة : _____

الإدارة : _____

المحافظة : _____ رقم الجلوس : _____

أولا اللغة العربية

السؤال الأول:-

- من موضوع (كبرياء طفل)

" فاضطرب الضابط ولم يستطع أن يغالب دهشته ، كيف ينطق تلميذ صغير لم يتعد عمره الثالثة عشرة بهذه العبارات "

أ- اختر الإجابة الصحيحة مما بين القوسين لما يلي :-

١- مضاد " يغالب " : (يهزم - يوقف - يستسلم)

٢- معنى " اضطرب " : (ارتجف - ارتعش - ارتبك)

٣- ما اسم التلميذ المقصود في الفقرة ؟

٤- الضابط تعرب (فاعل-مفعول به-صفة) وصغير تعرب (فاعل-مفعول به-صفة).

السؤال الثاني

- من نص (من أجل مصر) : قال رسول الله (صلى الله عليه وسلم) إنكم ستفتحون أرضا يذكر فيها القيراط، فاستوصوا بأهلها خيرا فإن لهم ذمة ورحما).
أستخيري الإجابة الصحيحة مما بين القوسين لما يلي:

١-مرادف (ذمة) : (عهد - أمان - كلاهما صحيح).

٢-مضاد(ستفتحون): (ستتملكون- ستتلون - ستفقدون).

٣-جمع (خير) : (خيور - خيارات - خور).

ثانيا اللغة الانجليزية

١-Choose the correct answer from a,b,c or d :-

١. Kings used to live in big

a. hotels b. clubs c. islands d. palaces

٢. we know information about the world today in a/an Programme.

a. matches b. temples c. comic d. news

٣. The Citadel is one of the most important in Egypt .

a. moments b. monuments c. minutes d. movements

٤. Some of the tribes live in the

a. palace b. rainforest c.lighthouse d. class

٥. What is the news on , is it ١ or ٢ ?

a. channel b. television c. canal d. announcer

٦. you cross the road when the light is red .

a. can b. must c. mustn't d. should

٧. A brave man could the child who fell down .

a. thank b. serve c. see d. rescue

٨. Hani has To America . He'll be home next week .

a. been b. gone c. go d. went

٢- Read and Correct the underlined words

١. The news on TV are good . ()

٢. English is a very interested subject . ()

٣. we mustn't take in the library . ()

٤. A trip is a group of people who have the same language.()



ثالثا الدراسات

السؤال الأول أكمل النقاط الآتية باختيار الكلمة المناسبة :

(أبو بكر - قناة السويس - أطلس - الفيل - التربة)

- ١- تربط بين البحر الأحمر والمتوسط .
- ٢- توجد جبال شمال شرق قارة أفريقيا .
- ٣- من العوامل الطبيعية لقيام الزراعة بالوطن العربي
- ٤- ولد الرسول في عام
- ٥- من أول الخلفاء الراشدين سيدنا

السؤال الثاني : ضع علامة (√) أمام العبارة الصحيحة وعلامة (x) أمام العبارة الخاطئة:

- ١- يعتدل مناخ المناطق المطلة على ساحل البحر المتوسط ()
- ٢- عاصمة جمهورية مصر العربية هي طرابلس ()
- ٣- يعتبر وادي النيل والدلتا من المناطق نادرة السكان ()
- ٤- انتصر المسلمين على الكفار في غزوة بدر ()
- ٥- سمي الرسول ﷺ بالصادق الأمين. ()



رابعا العلوم

السؤال الأول

اكمل ما يأتي :

- (١) يبلغ سمك طبقة الأوزون حوالي كم فوق سطح البحر وهي تقع في طبقة بالغلاف الجوي.
- (٢) توجد الهالوجينات في المجموعة ، بينما توجد مجموعة الألقلاء في المجموعة
- (٣) طائر مهدد بالانقراض، بينما طائر منقرض لسهولة صيده.
- (٤) في السلسلة الغذائية تنتقل الطاقة من الكائنات إلى الكائنات

السؤال الثاني

اختر الإجابة الصحيحة مما بين القوسين :

- (١) أعلى طبقات الغلاف الجوي حرارة. (الإكسوسفير / الميزوسفير / الترموسفير)
- (٢) عدد الإلكترونات الموجودة في أيون عنصر فلزي ثنائي التكافؤ ويقع في الدورة الرابعة هو (١٠ / ١٨ / ٢٠)
- (٣) زيادة في مياه الشرب يؤدي إلى فقدان البصر. (الزرنيخ / الرصاص / الزئبق)
- (٤) من الكائنات المهتدة بالانقراض. (الكواجا / الخرتيت / الديناصور)

خامسا الرياضيات

السؤال الأول

السؤال الأول: اختر الإجابة الصحيحة من بين الأقواس

- (١) المنوال للقيم: ١٠، ٤، ٥، ٧، ٥، ١٠ هو
(٢) حجم الكرة =
(٣) الزوج المرتب الذي يحقق العلاقة $٢س + ص = ٥$
(٤) مجموعة الأعداد الحقيقية $ح = ()$
(٥) العدد غير النسبي المحصور بين العددين ٢، ٣ هو
(١٠، ٤، ٥، ٧، ٥، ١٠)
(٢) حجم الكرة =
(٣) الزوج المرتب الذي يحقق العلاقة $٢س + ص = ٥$
(٤) مجموعة الأعداد الحقيقية $ح = ()$
(٥) العدد غير النسبي المحصور بين العددين ٢، ٣ هو
(١٠، ٤، ٥، ٧، ٥، ١٠)



السؤال الثاني أكمل كل مما يأتي :-

(١) نقطة تقاطع متوسطات المثلث تقسم كلا منها بنسبة : من جهة القاعدة

(٢) أطول أضلاع المثلث القائم الزاوية هو

(٣) أصغر زوايا المثلث في القياس يقابلها

(٤) منصف زاوية الرأس في المثلث المتساوي الساقين يكون عمودي على القاعدة و.....

(٥) المثلث المتساوي الساقين الذي فيه طول اضلعيه ٩ سم، ٤ سم يكون طول ضلعه الثالث = ٠.٠.٠.٠ سم

انتهت الاسئلة

- اختبار متعدد التخصصات للصف الثاني الإعدادي ترم أول
 أولاً اللغة العربية السؤال الأول (أ) من قصة كفاح شعب مصر لماذا أخفت شجر الدر خبر وفاة زوجها الملك الصالح
 (ب) من درس نصر أكتوبر متي انطلق الجنود البواسل لمقاتلة الأعداء واسترداد سيناء
 (ج) من نص من أجل مصر إنكم ستفتحون أرضاً ما الجمال في هذا التعبير
 (د) أقبل الطلاب فرحين أجعل الحال المفرد جملة اسمية

ثانياً الرياضيات

السؤال الأول : اختر الإجابة الصحيحة من بين الإجابات المطعنة :-

- ١ الزوج المطرب الذي يحفظ العزافة : $2s + 3s = 5s$ هو
 (أ) $(-3, 1)$ (ب) $(3, 1)$ (ج) $(1, 3)$ (د) $(2, 3)$
 ٢ إذا كان اثنوالم للقيم 1 ، 6 ، 8 ، 2 أن هو 1 فإن : ك =
 (أ) 2 (ب) 1 (ج) 4 (د) 8
 ٣ ميل المستقيم الأفقى
 (أ) $\frac{1}{2}$ (ب) $\frac{3}{4}$ (ج) $\frac{1}{3}$ (د) $\frac{2}{3}$
 ٤ إذا كان : $3 - 4 = 5$ ، $5 - 6 = 7$ ، $7 - 8 = 9$ فإن :
 (أ) $9 - 10 = 11$ (ب) $10 - 11 = 12$ (ج) $11 - 12 = 13$ (د) $12 - 13 = 14$
 ٥ = $\{2, 1\} \cup \{2, 1\}$
 (أ) $\{2, 1\}$ (ب) $[2, 1]$ (ج) $[2, 1]$ (د) ϕ

السؤال الثاني : أكمل مكان النقط :

- ١ أكبر أضلاع المثلث القائم الزاوية طولاً هو
 ٢ إذا كان طولاً ضلعين في مثلث ٢ سم ٧ سم فإن > طول الضلع الثالث >
 ٣ إذا اختلف قياسا زاويتين في مثلث فأكبرهما في القياس
 ٤ إذا كان طول متوسط المثلث المرسوم من أحد رؤوسه يساوي نصف طول الضلع المقابل لهذا الرأس فإن
 ٥ إذا كان قياس إحدى زوايا مثلث متساوي الساقين 60° كان المثلث

ثالثاً الدراسات السؤال الثالث

- (أ) ما المقصود بكل من 1_ أهمية استراتيجية 2_ غزوة
 (ب) بم تفسر 1_ أهمية الأودية الجافة
 2_ اختيار أبي بكر خليفة للمسلمين
 (ج) أكمل 1_ من أمثلة الجبال الأتوائية في الوطن العربي.....
 2_ حاول..... هدم الكعبة

- رابعاً العلوم السؤال الرابع (أ) أكمل 1_ رتب مندليف العناصر علي حسب
 2_ يحفظ الصوديوم تحت سطح ... حتي لا يتفاعل مع
 3_ حفظت بعض الحشرات كاملة في مادة بينما حفظ الماموث كاملاً في
 4_ تحدث معظم الظواهر الجوية في بينما تدور الأقمار الصناعية في
 (ب) علل 1_ جزئ الماء من الجزئيات القطبية
 2_ يعتبر السيزيوم أنشط الفلزات
 3_ النسر الاصلع مهدد بالانقراض

إعداد مستر وليد

01159559213

خامساً اللغة الإنجليزية السؤال الخامس

4- Choose the correct answer from a, b, c or d :

- 1- In handball, they ----- by throwing the ball into a goal.
a) succeed b) pass c) score d) cross
- 2- The ruins at the Karnak Temple were ----- and we really enjoyed our visit !
a) terrible b) amazing c) boring d) ugly
- 3- She always likes to read stories on the -----.
a) sofa b) wall c) tap d) TV
- 4- In 2018, people ----- about 11 billion tons of rubbish around the world.
a) spent b) infected c) produced d) introduced
- 5- On Saturday, we sometimes ----- time with our father.
a) say b) leave c) spend d) stay
- 6- They gave the footballer a ----- test to check his health.
a) random b) noisy c) silly d) dirty
- 7- ----- from the past can help us to understand what life was like many years ago.
a) Subjects b) Objects c) Droughts d) Floods
- 8- She bought me the shorts ----- I wore when I played in the school volleyball team.
a) when b) where c) who d) which
- 9- You ----- run near the pool.
a) must b) mustn't c) don't have to d) can
- 10- I ----- get up late. I go to work on time all the time.
a) never b) always c) hardly d) sometimes

5- Complete the sentences with the correct form of the word(s) in brackets :

- 1- Where did he ----- (used) to live?
- 2- While I was reading my book, the phone ----- (ring).
- 3- The museum is ----- (far) from his house than Hamad's school.
- 4- Nabila is talking ----- (quiet) to her friend because they are working in a library.

إعداد مستر وليد

01159559213



امتحان مجمع رقم (1) ثانيه اعدادى

السؤال الأول : لغة عربية

قال تعالى : " يا بنى إنها إن تك مثقال حبة من خردل فتكن في صخرة أو في السماوات أو في الأرض يأت بها الله إن الله لطيف خبير ."

(أ) ما جمع " مثقال " ؟ وما معنى " خردل " ؟ وما جمع " صخرة " ؟

(ب) ما نوع الأسلوب " إن تك مثقال حبة " ؟ وما غرضه ؟ وما الغرض من النداء في " يا بنى " ؟

.....
.....
.....

(ج) اجعل الحال المفردة فيما يأتي جملة وغير ما يلزم : يدخل التلاميذ الفصول منظمين ويجلسون منتبهين

.....
(٤) بعد أن نزل الفرنسيون أرض مصر وتغلغوا فيها، وسيطروا على أجزاء كثيرة منها سارت سفنهم في نهر النيل متجهة نحو الصعيد حتى وصلت إلى قرية تسمى نجع البارود .

(1) ما مرادف تغلغوا وما المراد من سيطروا ؟ وما مفرد أجزاء؟

(2) ماذا فعل أهل "نجع البارود" مع سفن الأعداء ؟

.....
.....

السؤال الثاني : دراسات

1 - يمكن تقسيم الوطن العربي الي اقاليم مناخية (أربعة ، ستة ، خمسة ، ثلاثة)

2 - يتعرض الوطن العربي لرياح نتيجة اتحاد نطاق الضغط الأسيوي ونطاق الضغط الأزوري (شمالية ، شرقية ، شمالية شرقية ، غربية)

3 - بم تفسر : خروج المسلمين في غزوة بدر سنة 2 هـ

.....
4 - رتب الاحداث التالية من القديم الي الحديث (صلح الحديبية - عام الفيل - بيعة العقبة الاولى - غزوة احد)

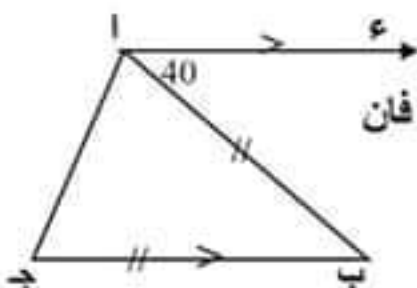
.....
.....

السؤال الثالث : رياضيات

1 - اذا كانت $S = [3, 5]$ ، $V = [2, 7]$ فان $S \cap V$ باستخدام خط الاعداد

.....
2 - $75 \text{ ؟} - 27 \text{ ؟} + 3 \text{ ؟} =$

3 - أكمل : Δ ا ب ج فيه ا ب < ا ج : فان : ق (> ج) ق (> ب)



(4) في الشكل المقابل : اء // ب ج " ، ق (> ا ب) = 40 ، ب = ا ج ج فان

ق (> ب) = بال ، ق (> ج) =

، ا ب = ا ج ج ب ق (> ب ا ج) = ق (>) =

السؤال الرابع : علوم

- 1 - تستخدم الفريونات كمادة في تنظيف شرايح الدوائر الكهربائية
- 2 - عنصر يقع في المجموعة الصفيرية والدورة الثالثة فان عدده الذري
- 3-.....حيوان ثدي منقرض يجمع بين شكل الحصان والحمار الوحشي
- 4- أهمية فولتامتر هوفمان

السؤال الخامس : لغة انجليزية

Choose the correct answer a, b, c or d:

1-Ali.....studies his lessons very well all teachers like him

- a) often b) always c) never d) sometimes

2-.....did you arrive at school?-At seven.

- a) Where b) When c) What d) Why

Complete the sentences with the correct from the word(s) in brackets:

1-She(get) up at 7.00

2-My friend speaks English(good).

أحمد التمامي

امتحان مجمع رقم (2) ثنائية اعدادي

السؤال الاول لغة عربية

من نص سيناء:

سيناء مناجم فيروز
سيناء تميمة وادي النيل
أ - هات جمع تميمة و المراد من سحرية .
وكنوز عقيق سحرية
تعود إلى صدر الوادي

ب - بم شبه الشاعر سيناء في هذين البيتين ؟ وعلام يدل ذلك ؟

ج - من قصة كفاح شعب مصر: ولكنك نسيت أننا أرباب السيوف، وما قتل منا فرد إلا جددناه، ولا بغى علينا باغ إلا دمرناه، لو رأيت عينك أيها المغرور حد سيوفنا، وعظم حروبنا، وقتحنا منكم الحصون والسواحل، لكان لك أن تعض أناملك من الندم، ولا بد من أن تزل بك القدم .

تخير الصواب مما بين الأقواس :

1- مرادف أرباب : (أصحاب - عملاء - زملاء)

2 - مفرد بغاة: (بغى- باغ - بغاء)

ء - النحو : التراحم بين الناس فضيلة من أعظم الفضائل، وأجلها قدرًا وأوفرها عند الله جزاء، بها يسعد المجتمع ويسوده الأمن والاطمئنان، ويعمه الرخاء والرحمة من صفاته تعالى القائل : ورحمتي وسعت كل شيء، ولا يجحد ذلك إلا الفاسقون .

أ - أعراب فضيلة

ب - استخرج من الفقرة السابقة: نعتًا شبه جملة واذكر موقعه الاعرابي

السؤال الثاني : الدراسات الاجتماعية :

1 - بم تفسر الزيادة المستمرة لسكان الحضر بالوطن العربي ؟

2 - ماذا يحدث لو تم حفر قناة موازية لقناة السويس

3 - لمن ينتسب : هدم الكعبة 570 م

4 - فتح عبد الله بن ابي السرح بلاد في عهد

السؤال الثالث : رياضيات

1 - اوجد مجموعة حل المتباينة - 3 > 2س - 5 > 1 في ح ومثل الحل علي خط الاعداد

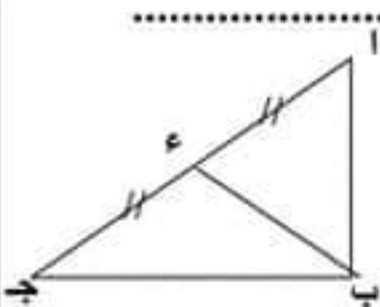
2 - ميل المستقيم المار بالنقطتين (2 ، -1) ، (3 ، 5) =

3 - في الشكل المقابل :

ق (> ب) = 90 ، ا ج = 10 سم ، ء منتصف ا ج : فان ب ء = سم

4 - اذا كان طولوا ضلعين في مثلث متساوي الساقين 3 سم ، 7 سم فان طول

الضلع الثالث



السؤال الرابع : علوم

- 1 - يتكون الجدول الدوري الحديث من دورات أفقية و..... مجموعات رأسية
- 2 - من الكائنات المنقرضة (الماموث ، النسر الأصلع ، كبش أروي ، الخرتيت)
- 3 - المقصود بمعدل الضغط ودرجة الحرارة.....
- 4 - تقسم الملوثات البيئية الى نوعين هما '

السؤال الخامس : لغة انجليزية

Choose the correct answer a, b, c or d

1-You.....run in hospitals.

- a) must b) mustn't c)have to d)has to

2-The teacher was very angry when the class was..... .

- a) arranged b)clean c)tidy d)messy

Complete the sentences with the correct form of the word(s) in brackets:

1-Many buildings and monuments.....(find) in the city.

2-Alexandria is the place.....(when) we go for a holiday.

أ / حمدي التهامي



امتحان مجمع رقم (3) ثانيه اعدادى

السؤال الاول لغة عربية

عن عبد الرحمن بن شماسة قال: سمعت أبا ذر يقول: قال رسول الله صلى الله عليه وسلم: أرضاً يذكر فيها القيراط..".

- 1 - ما البلد التي بشر النبي صلى الله عليه وسلم بفتحها ؟ البلد هي
- 2 - عبد الرحمن بن شماسة: (صحابي - تابعي - نبي)
- 3 - مرادف: ستفتحون: (ستملكون - ستأخذون - ستفوزون)

النحو : العمل الجاد مقياس تنهض به الأمم فهو يحقق للإنسان شخصيته المتميزة، ويمنحه القدرة ليصبح أكثر تطوراً، فيعيش وهو مطمئن، وليست الأمة بقدرة على النهوض ما لم يكن العامل مخلصاً في عمله لا متهاوناً .

- 1 - اعراب كلمة الامم (.....)

- 2 - استخرج من الفقرة السابقة : - نعتاً جملة واذكر محلها الإعرابي

(.....)

قصة كفاح شعب مصر:

"وما دامت الأنهار تفيض بمياهها، وما دامت مملكتنا موطدة الدعائم والأركان، فسوف تعلم يا قمييز ما سيحل بك".

- أ - تخير الصواب: معنى " موطدة": (ثابتة - عظيمة - مرتفعة) .

السؤال الثاني : الدراسات الاجتماعية :

- 1 - الفئانج المترتبة علي الهجرة من الريف الي المدن بالوطن العربي اذكر واحدة

- 2 - صوب الخطأ : تنمو أشجار السنط في اقليم البحر المتوسط (.....)

- 3 - ماذا كان يحدث اذا التزم اليهود بعهدهم مع الرسول صلى الله عليه وسلم في غزوة الخندق

- 4 - لمن ينتسب : أخي بين المهاجرين والانتصار بالمدينة بعد الهجرة ؟

السؤال الثالث : رياضيات

- 1 - اذا كانت النقط ا ، ب ، ج علي استقامة واحدة فان ميل ا ب = ميل

- 2 - الوسيط للاعداد 14 ، 16 ، 11 ، 5 ، 7 هو

أسطوانة دائرية قائمة مساحة قاعدتها 10 سم وارتفاعها = 7 سم اوجد حجمها ؟ -

- 4 - اذا كان قياس احدي زاويتي القاعدة في Δ المتساوي الساقين 40° فان قياس زاوية رأسه

(أ) 55 (ب) 70 (ج) 100 (د) 110

- 5 - نقطة تقاطع متوسطات المثلث تقسم كلا منها بنسبة من جهة القاعدة

(أ) 2 : 1 (ب) 1 : 2 (ج) 3 : 1 (د) 3 : 2

السؤال الرابع : علوم

1 - رتب مندلبف العناصر تصاعديا حسب بينما رتبها موزلي تصاعديا حسب

2 - اذكر استخدام واحد لكل من النيتروجين المسال ، المحميات الطبيعية

3 - توجد حفريات كاملة لحشرات محفوظة في (الأمونيت ، الصخور الفارية ، الكهرمان ، الجليد)

4 - علل تكون طبقة الاوزون في الستراتوسفير

السؤال الخامس : لغة انجليزية

Choose the correct answer a, b, c or d

1-Ayaforward to being a teacher one day.

a) gives b)takes c)looks d)makes

2- When someone passes his exams, we say"....."

a)awful b)how terrible c)sorry d)Congratulations

Complete the sentences with the correct form of the word(s) in brackets:\

1-Is this car(who) you bought?

2-As Ali(take) photos of his family, he lost his keys.

أ / حمدي التهامي



امتحان مجمع رقم (4) ثانية اعدادى

السؤال الاول لغة عربية

(أ) فإذا أنا كفراشة بهرت بما قد أبصرت من هيبة وجلال
فقبست إيماناً وحباً صادقاً بالمرتبجى والشعر كان مجالى

1- مرادف بهرت : (رأت- دهشت- تلونت) 2 - مضاد حباً : (بغضا- بعدا- فراقاً)

2- جمع الشعر : (الشعراء - الأشعار- المشاعر)

النحو: إن مصر حريصة على تكريم المتفوقين من أبنائها؛ ليكونوا قدوةً تحتذى، ومثلاً أعلى لجيلنا
الحاضر بل الأجيال القادمة في مختلف المجالات. ومن حق المصريين أن يفخروا بمصر وعلمائها
الذين رفعوا رأس مصر خارج أرض مصر بنبوغهم، وقيامهم بما يعجز عنه أشهر علماء العالم.

أ أعرب ما تحته خط حريصة : قدوة
ب استخرج من الفقرة السابقة : نعتاً مفرداً وآخر جملة.

.....
ج -معطوفاً وأعربه.

.....

السؤال الأول :القراءة :

من قصة كفاح شعب مصر: ولكنك نسيت أننا أرباب السيوف، وما قتل منا فرد إلا جددناه، ولا بغى علينا
بأغ إلا دمرناه، لو رأيت عينك أيها المغرور حد سيوفنا، وعظم حروبنا، وفتحنا منكم الحصون والسواحل،
لكان لك أن تعض أناملك من الندم، ولا بد من أن تزل بك القدم .

أ تخير الصواب مما بين الأقواس :

- مرادف أرباب (أصحاب - عملاء - زملاء)

- مفرد بغاة: (بغى- باغ - بغاء)

هذه العبارة جزء من رسالة. فمن أرسلها ؟ ولماذا أرسلها ؟

السؤال الثاني : الدراسات الاجتماعية :

1 - أعط دليلاً واحداً على أهمية موقع الوطن من الناحية التجارية والاقتصادية

.....
2 - اعط مقارنة واحدة بين الاقاليم المدارية والاقاليم المعتدلة من حيث الخصائص المناخية والخصائص النباتية

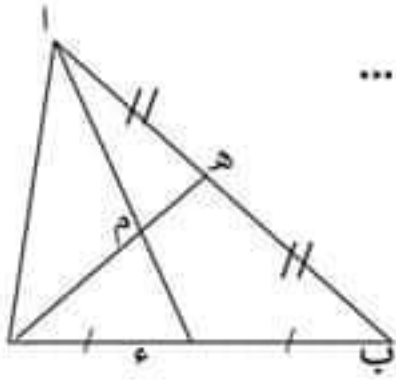
.....

3 - اول من أنشأ الدواوين الاسلامية الخليفة

4 - ماذا يحدث اذا انهزم جيش اسامه بن زيد في بلاد الشام

.....

السؤال الثالث : رياضيات



- 1 - الوسيط الحسابي للاعداد 9 ، 2 ، 5 ، 4 ، 7 هو
- 2- مكعب حجمه 64 سم³ فإن طول حرفه =سم
- 3 - في الشكل المقابل
- 4 - م نقطة تقاطع متوسطات المثلث ا ب ج ، ب ج = 10 سم ، ج هـ = 18 سم
ا = 12 سم
أكمل لايجاد محيط المثلث م هـ ج
- ب ا =سم ، م ج =سم ، م هـ =سم
- محيط المثلث م هـ ج = + + =سم

السؤال الرابع : علوم

- 1 - يبدأ ظهور العناصر الانتقالية ابتداءً من الدورة
- 2 - الأشعة تحت الحمراء لها تأثير
- 2 - اول محمية طبيعية تم انشاؤها في مصر هي
- 4 - تقدر درجة الاوزون الطبيعية بوحدة
- 5 - يستخدم المسال في حفظ قرنية العين

السؤال الخامس : لغة انجليزية

Choose the correct answers from a, b, c or d

1-France is not **as**as South Africa

- a) hotter b) hottest c) the hottest d) hot

2-The email..... by sally

- a) writes b) is written c) wrote d) write

Read and correct the underlined word:

3-Trains are (comfortable) than cars

4- where are these books(sel l) ?

أحمد التهامي

فكرة امتحان استرشادي مجمع للصف الثاني الاعدادي

السؤال الأول لغة عربية من موضوع نصائح غالية

{ يا بُنَيَّ إِنِّي أَنَا اللَّهُ لَطِيفٌ خَبِيرٌ * يَا بُنَيَّ أَقِمِ الصَّلَاةَ وَأْمُرْ بِالْمَعْرُوفِ وَانْهَ عَنِ الْمُنْكَرِ وَأَصْبِرْ عَلَى مَا أَسَاءْتُكَ * إِنَّ ذَلِكَ مِنْ عَزْمِ الْأُمُورِ } [القمان ١٦-١٧]

- ١- يابتي : اسلوب بفيد ٢- الخرندل هو (حجر كريم - ذهب - نبات)
٣- مضاد اصبر (اجزع - ابتعد - أفرح) ٤ - كلمة مبنية كلمة معربة

السؤال الثاني : دراسات

- (١) أدي تعرض الصخور الأرضيه الصلبة بالوطن العربي لحركات باطنيه الي تكون (جبال التوائية - جبال بركانية - جبال انكسارية - سهول فيضية)
(٢) اكثر المسطحات المائية تأثيرا في اعتدال مناخ الوطن العربي (البحر المتوسط - البحر الأحمر - البحر العربي - المحيط الهندي)
(٣) من أشهر قبائل العرب قبل الإسلام وكانت تسكن مكة
(٤) تولى امر المسلمين بعد وفاة الرسول صلى الله عليه وسلم

السؤال الثالث : رياضيات

- (١) إذا كانت $m = [2, 3, 5]$ ، $n = [7, 2]$ فإن $m \cap n = \dots\dots\dots$
(٢) $\sqrt{20} - \sqrt{32} + \sqrt{8} = \dots\dots\dots$
(٣) أكمل : Δ ب ج فيه $m < n$ ج فإن : ق (> ج) ق (> ب)
(٤) طول الضلع المقابل للزاوية 30° في المثلث القائم يساوي ... الوتر

السؤال الرابع : علوم

- (١) اول جدول دوري حقيقي لتصنيف العناصر
(٢) تمتص طبقة الأوزون الأشعة فوق البنفسجية المتوسطة بنسبة %
(٣) طائر مهتد بالانقراض بينما طائر منقرض لمسهولة صيده

السؤال الخامس لغة انجليزية

1- My new house in the country is near a railway

- a- lion b)line c)light d)lies

2-you should befor the good things in your life and continue to work hard

- a)careful b)wasteful c)gratefu

d)helpful 3 - the skin of a zebra is

- a)straight b)striped c)lined d)spotted

4 - Does Leila go to work early?

- a)has to b)have to c)has d)have

(مع التمنيات بالتوفيق والنجاح)